



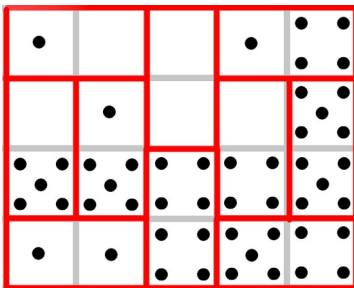
I
L'aire du polygone gris est :

14 cm²

II
La boîte qu'elle doit choisir pour aller au concert est la boîte :

n° **2**

III



IV

Il faudra peindre **52** carrés.

V

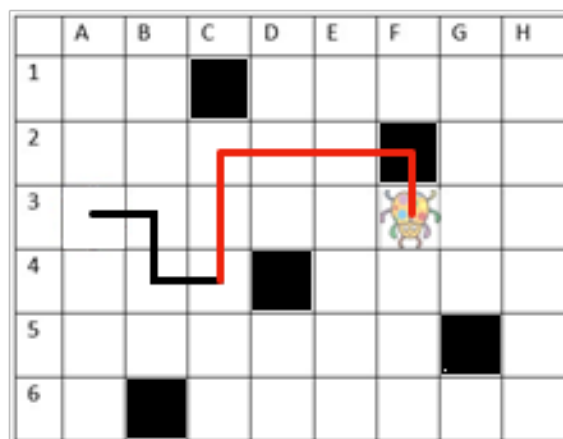
Je suis le nombre : **350**

VI

Le nombre de points indiqués sur la dernière case de ce parcours est :

2

VII





5ème

Rallye mathématique de la Sarthe 2021-2022

1^{ère} épreuve de qualification

Mardi 16 novembre 2021

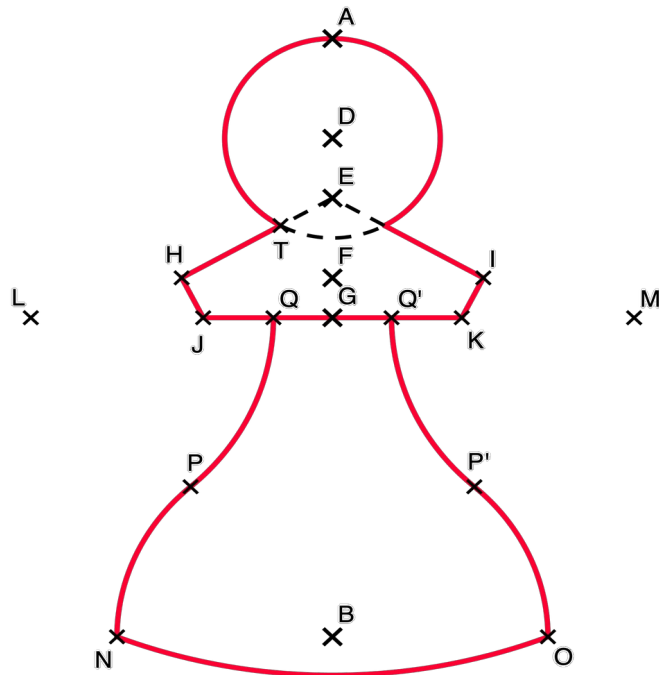
Retrouvez tous les sujets et corrigés sur www.rallyemath72.fr

2^{ème} Partie « Echecs et maths »

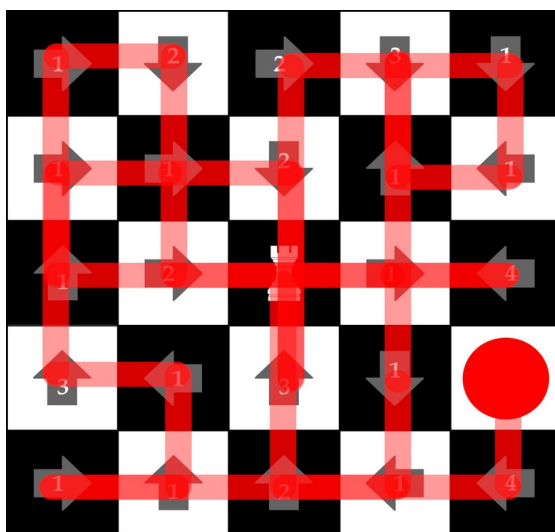


Corrigé

Exercice 1



Exercice 2



Exercice 3

Le tournoi doit durer 5 jours.